


Name _____ Datum _____ Klasse _____



© <http://aufgaben.schulkreis.de>

Zahlenstrahl-Übungen, Blatt 9

Bereich: bis 100

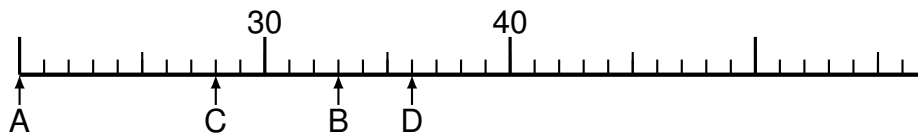
Bestimme jeweils die Werte A bis D.

Aufgabe 1



A = _____
B = _____
C = _____
D = _____

Aufgabe 2



A = _____
B = _____
C = _____
D = _____

Aufgabe 3



A = _____
B = _____
C = _____
D = _____

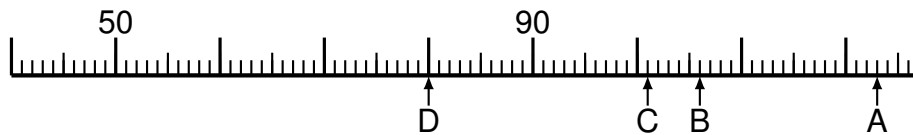


Aufgabe 4



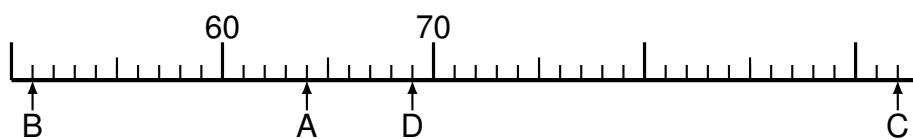
A = _____
B = _____
C = _____
D = _____

Aufgabe 5



A = _____
B = _____
C = _____
D = _____

Aufgabe 6



A = _____
B = _____
C = _____
D = _____



Lösung: Zahlenstrahl-Übungen, Blatt 9

Bereich: bis 100

Musterlösung:

Aufgabe 1

$$\begin{array}{r} A = \quad 54 \\ \hline B = \quad 51 \\ \hline C = \quad 97 \\ \hline D = \quad 62 \\ \hline \end{array}$$

Aufgabe 4

$$\begin{array}{r} A = \quad 74 \\ \hline B = \quad 136 \\ \hline C = \quad 73 \\ \hline D = \quad 40 \\ \hline \end{array}$$

Aufgabe 2

$$\begin{array}{r} A = \quad 20 \\ \hline B = \quad 33 \\ \hline C = \quad 28 \\ \hline D = \quad 36 \\ \hline \end{array}$$

Aufgabe 5

$$\begin{array}{r} A = \quad 123 \\ \hline B = \quad 106 \\ \hline C = \quad 101 \\ \hline D = \quad 80 \\ \hline \end{array}$$

Aufgabe 3

$$\begin{array}{r} A = \quad 46 \\ \hline B = \quad 53 \\ \hline C = \quad 29 \\ \hline D = \quad 114 \\ \hline \end{array}$$

Aufgabe 6

$$\begin{array}{r} A = \quad 64 \\ \hline B = \quad 51 \\ \hline C = \quad 92 \\ \hline D = \quad 69 \\ \hline \end{array}$$