

Name _____ Datum _____ Klasse _____

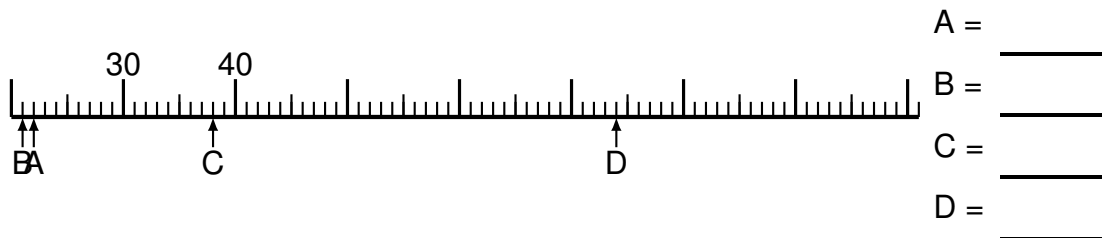
© <http://aufgaben.schulkreis.de>

Zahlenstrahl-Übungen, Blatt 6

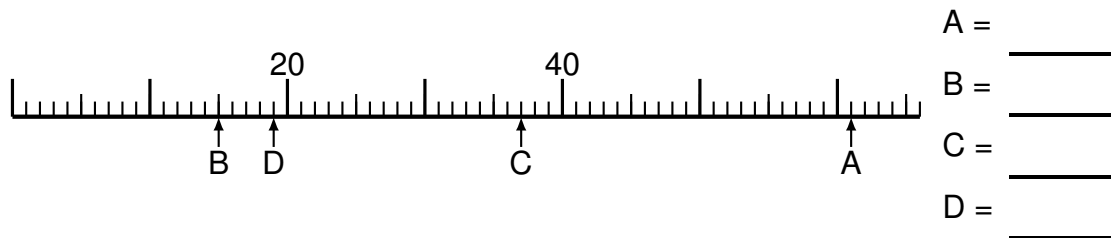
Bereich: bis 100

Bestimme jeweils die Werte A bis D.

Aufgabe 1




Aufgabe 2



Aufgabe 3



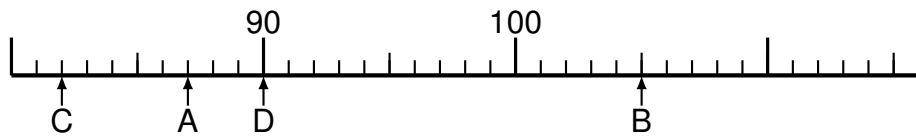


Aufgabe 4



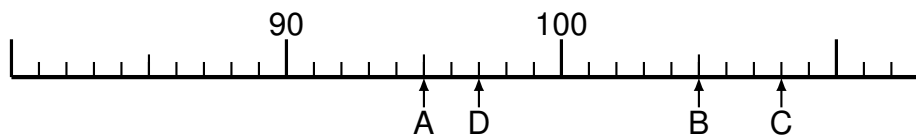
A = _____
B = _____
C = _____
D = _____

Aufgabe 5




A = _____
B = _____
C = _____
D = _____

Aufgabe 6



A = _____
B = _____
C = _____
D = _____



Lösung: Zahlenstrahl-Übungen, Blatt 6

Bereich: bis 100

Musterlösung:

Aufgabe 1

$$\begin{array}{r} A = \quad 22 \\ \hline B = \quad 21 \\ \hline C = \quad 38 \\ \hline D = \quad 74 \\ \hline \end{array}$$

Aufgabe 4

$$\begin{array}{r} A = \quad 43 \\ \hline B = \quad 20 \\ \hline C = \quad 24 \\ \hline D = \quad 34 \\ \hline \end{array}$$

Aufgabe 2

$$\begin{array}{r} A = \quad 61 \\ \hline B = \quad 15 \\ \hline C = \quad 37 \\ \hline D = \quad 19 \\ \hline \end{array}$$

Aufgabe 5

$$\begin{array}{r} A = \quad 87 \\ \hline B = \quad 105 \\ \hline C = \quad 82 \\ \hline D = \quad 90 \\ \hline \end{array}$$

Aufgabe 3

$$\begin{array}{r} A = \quad 58 \\ \hline B = \quad 37 \\ \hline C = \quad 103 \\ \hline D = \quad 35 \\ \hline \end{array}$$

Aufgabe 6

$$\begin{array}{r} A = \quad 95 \\ \hline B = \quad 105 \\ \hline C = \quad 108 \\ \hline D = \quad 97 \\ \hline \end{array}$$