

Name _____ Datum _____ Klasse _____

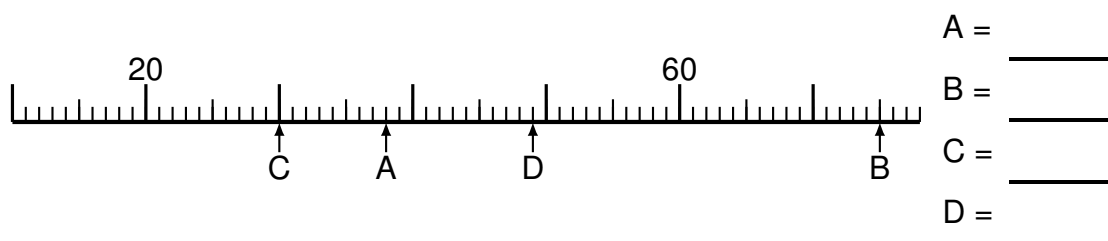
© <http://aufgaben.schulkreis.de>

Zahlenstrahl-Übungen, Blatt 5

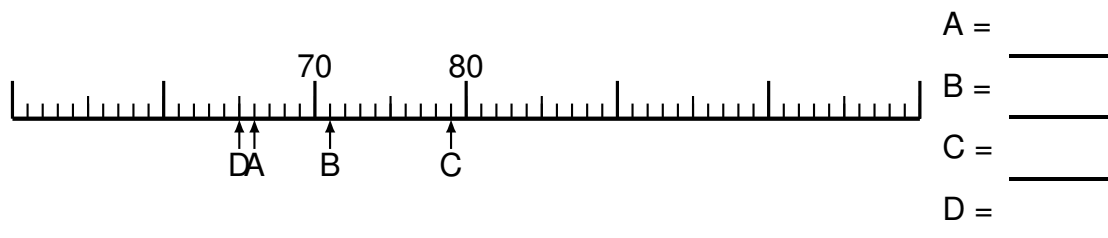
Bereich: bis 100

Bestimme jeweils die Werte A bis D.

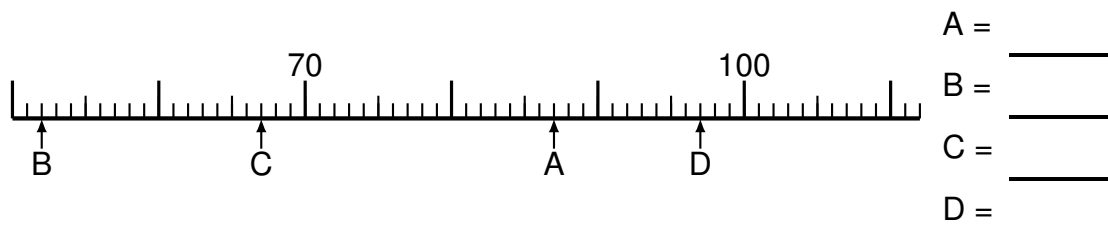
Aufgabe 1

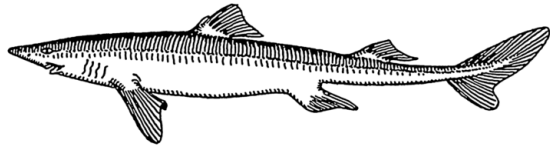


Aufgabe 2

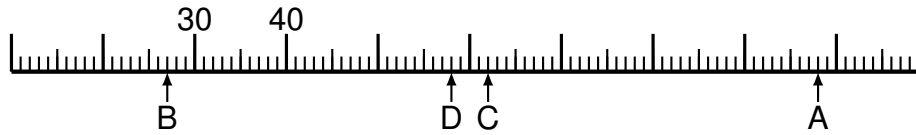


Aufgabe 3





Aufgabe 4



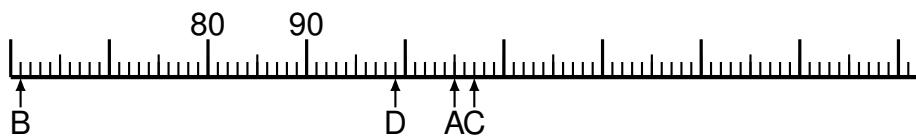
- A = _____
- B = _____
- C = _____
- D = _____

Aufgabe 5

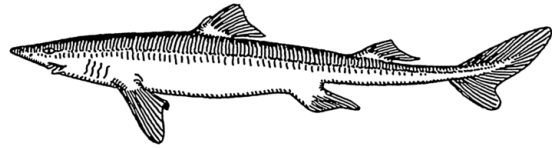


- A = _____
- B = _____
- C = _____
- D = _____

Aufgabe 6



- A = _____
- B = _____
- C = _____
- D = _____



Lösung: Zahlenstrahl-Übungen, Blatt 5

Bereich: bis 100

Musterlösung:

Aufgabe 1

$$\begin{array}{r} A = \quad 38 \\ \hline B = \quad 75 \\ \hline C = \quad 30 \\ \hline D = \quad 49 \\ \hline \end{array}$$

Aufgabe 4

$$\begin{array}{r} A = \quad 98 \\ \hline B = \quad 27 \\ \hline C = \quad 62 \\ \hline D = \quad 58 \\ \hline \end{array}$$

Aufgabe 2

$$\begin{array}{r} A = \quad 66 \\ \hline B = \quad 71 \\ \hline C = \quad 79 \\ \hline D = \quad 65 \\ \hline \end{array}$$

Aufgabe 5

$$\begin{array}{r} A = \quad 87 \\ \hline B = \quad 43 \\ \hline C = \quad 37 \\ \hline D = \quad 26 \\ \hline \end{array}$$

Aufgabe 3

$$\begin{array}{r} A = \quad 87 \\ \hline B = \quad 52 \\ \hline C = \quad 67 \\ \hline D = \quad 97 \\ \hline \end{array}$$

Aufgabe 6

$$\begin{array}{r} A = \quad 105 \\ \hline B = \quad 61 \\ \hline C = \quad 107 \\ \hline D = \quad 99 \\ \hline \end{array}$$