



Name _____ Datum _____ Klasse _____

© <http://aufgaben.schulkreis.de>

Zahlenstrahl-Übungen, Blatt 2

Bereich: bis 100

Bestimme jeweils die Werte A bis D.

Aufgabe 1



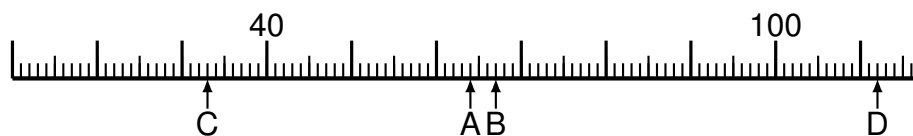
A = _____
B = _____
C = _____
D = _____

Aufgabe 2



A = _____
B = _____
C = _____
D = _____

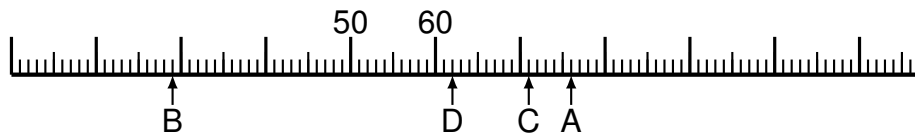
Aufgabe 3



A = _____
B = _____
C = _____
D = _____



Aufgabe 4



A = _____
B = _____
C = _____
D = _____

Aufgabe 5




A = _____
B = _____
C = _____
D = _____

Aufgabe 6



A = _____
B = _____
C = _____
D = _____



Lösung: Zahlenstrahl-Übungen, Blatt 2

Bereich: bis 100

Musterlösung:

Aufgabe 1

$$\begin{array}{r} A = \quad 14 \\ \hline B = \quad 81 \\ \hline C = \quad 29 \\ \hline D = \quad 98 \\ \hline \end{array}$$

Aufgabe 4

$$\begin{array}{r} A = \quad 76 \\ \hline B = \quad 29 \\ \hline C = \quad 71 \\ \hline D = \quad 62 \\ \hline \end{array}$$

Aufgabe 2

$$\begin{array}{r} A = \quad 118 \\ \hline B = \quad 45 \\ \hline C = \quad 40 \\ \hline D = \quad 116 \\ \hline \end{array}$$

Aufgabe 5

$$\begin{array}{r} A = \quad 140 \\ \hline B = \quad 50 \\ \hline C = \quad 92 \\ \hline D = \quad 108 \\ \hline \end{array}$$

Aufgabe 3

$$\begin{array}{r} A = \quad 64 \\ \hline B = \quad 67 \\ \hline C = \quad 33 \\ \hline D = \quad 112 \\ \hline \end{array}$$

Aufgabe 6

$$\begin{array}{r} A = \quad 115 \\ \hline B = \quad 21 \\ \hline C = \quad 53 \\ \hline D = \quad 30 \\ \hline \end{array}$$