

Name _____ Datum _____ Klasse _____

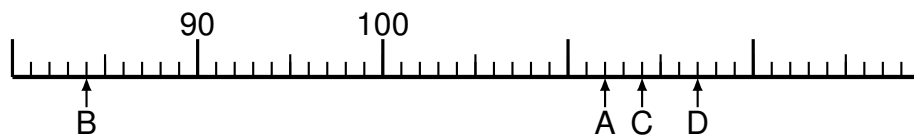
© <http://aufgaben.schulkreis.de>

Zahlenstrahl-Übungen, Blatt 10

Bereich: bis 100

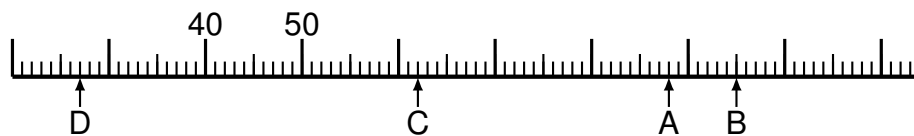
Bestimme jeweils die Werte A bis D.

Aufgabe 1



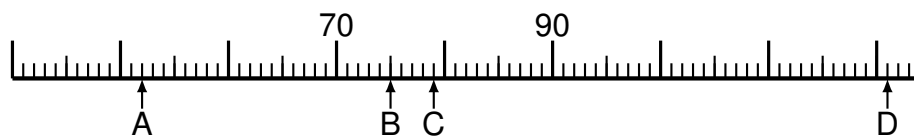
A = _____
B = _____
C = _____
D = _____

Aufgabe 2




A = _____
B = _____
C = _____
D = _____

Aufgabe 3



A = _____
B = _____
C = _____
D = _____



Aufgabe 4



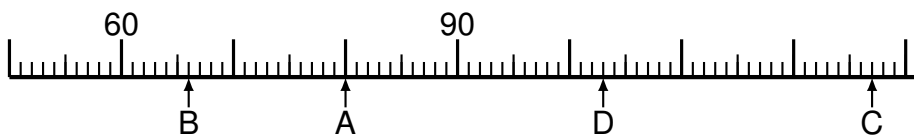
A = _____
B = _____
C = _____
D = _____

Aufgabe 5




A = _____
B = _____
C = _____
D = _____

Aufgabe 6



A = _____
B = _____
C = _____
D = _____



Lösung: Zahlenstrahl-Übungen, Blatt 10

Bereich: bis 100

Musterlösung:

Aufgabe 1

$$\begin{array}{r} A = \quad 112 \\ \hline B = \quad 84 \\ \hline C = \quad 114 \\ \hline D = \quad 117 \\ \hline \end{array}$$

Aufgabe 4

$$\begin{array}{r} A = \quad 12 \\ \hline B = \quad 19 \\ \hline C = \quad 50 \\ \hline D = \quad 82 \\ \hline \end{array}$$

Aufgabe 2

$$\begin{array}{r} A = \quad 88 \\ \hline B = \quad 95 \\ \hline C = \quad 62 \\ \hline D = \quad 27 \\ \hline \end{array}$$

Aufgabe 5

$$\begin{array}{r} A = \quad 85 \\ \hline B = \quad 97 \\ \hline C = \quad 35 \\ \hline D = \quad 91 \\ \hline \end{array}$$

Aufgabe 3

$$\begin{array}{r} A = \quad 52 \\ \hline B = \quad 75 \\ \hline C = \quad 79 \\ \hline D = \quad 121 \\ \hline \end{array}$$

Aufgabe 6

$$\begin{array}{r} A = \quad 80 \\ \hline B = \quad 66 \\ \hline C = \quad 127 \\ \hline D = \quad 103 \\ \hline \end{array}$$