

Name \_\_\_\_\_ Datum \_\_\_\_\_ Klasse \_\_\_\_\_

© <http://aufgaben.schulkreis.de>

# Zahlenstrahl-Übungen, Blatt 1

Bereich: bis 100

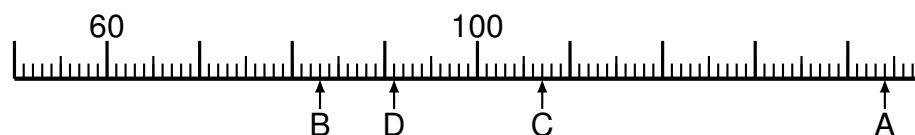
Bestimme jeweils die Werte A bis D.

## Aufgabe 1



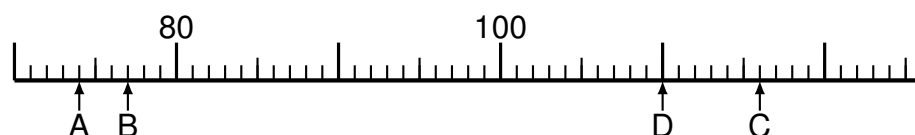
A = \_\_\_\_\_  
B = \_\_\_\_\_  
C = \_\_\_\_\_  
D = \_\_\_\_\_

## Aufgabe 2




A = \_\_\_\_\_  
B = \_\_\_\_\_  
C = \_\_\_\_\_  
D = \_\_\_\_\_

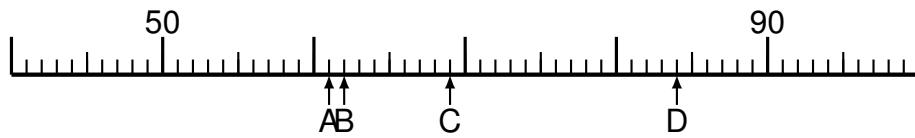
## Aufgabe 3



A = \_\_\_\_\_  
B = \_\_\_\_\_  
C = \_\_\_\_\_  
D = \_\_\_\_\_

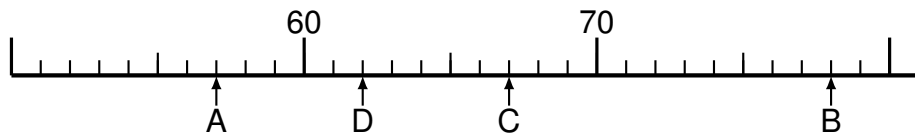


### Aufgabe 4



A = \_\_\_\_\_  
B = \_\_\_\_\_  
C = \_\_\_\_\_  
D = \_\_\_\_\_

### Aufgabe 5




A = \_\_\_\_\_  
B = \_\_\_\_\_  
C = \_\_\_\_\_  
D = \_\_\_\_\_

### Aufgabe 6



A = \_\_\_\_\_  
B = \_\_\_\_\_  
C = \_\_\_\_\_  
D = \_\_\_\_\_



# Lösung: Zahlenstrahl-Übungen, Blatt 1

Bereich: bis 100

Musterlösung:

Aufgabe 1

$$\begin{array}{r} A = \quad 59 \\ \hline B = \quad 101 \\ \hline C = \quad 62 \\ \hline D = \quad 34 \\ \hline \end{array}$$

Aufgabe 4

$$\begin{array}{r} A = \quad 61 \\ \hline B = \quad 62 \\ \hline C = \quad 69 \\ \hline D = \quad 84 \\ \hline \end{array}$$

Aufgabe 2

$$\begin{array}{r} A = \quad 144 \\ \hline B = \quad 83 \\ \hline C = \quad 107 \\ \hline D = \quad 91 \\ \hline \end{array}$$

Aufgabe 5

$$\begin{array}{r} A = \quad 57 \\ \hline B = \quad 78 \\ \hline C = \quad 67 \\ \hline D = \quad 62 \\ \hline \end{array}$$

Aufgabe 3

$$\begin{array}{r} A = \quad 74 \\ \hline B = \quad 77 \\ \hline C = \quad 116 \\ \hline D = \quad 110 \\ \hline \end{array}$$

Aufgabe 6

$$\begin{array}{r} A = \quad 37 \\ \hline B = \quad 95 \\ \hline C = \quad 99 \\ \hline D = \quad 13 \\ \hline \end{array}$$