

Name _____ Datum _____ Klasse _____



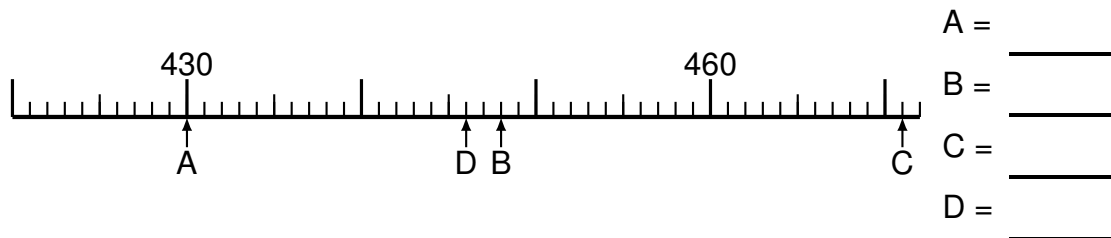
© <http://aufgaben.schulkreis.de>

Zahlenstrahl-Übungen, Blatt 8

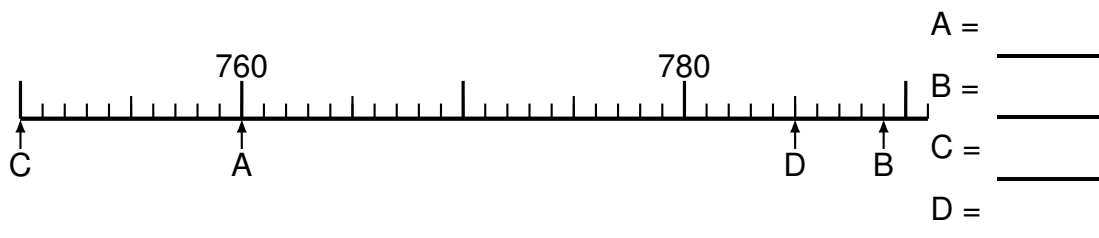
Bereich: bis 1000

Bestimme jeweils die Werte A bis D.

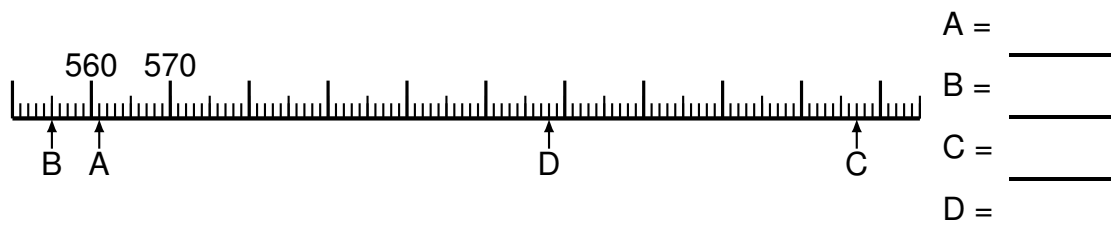
Aufgabe 1



Aufgabe 2



Aufgabe 3



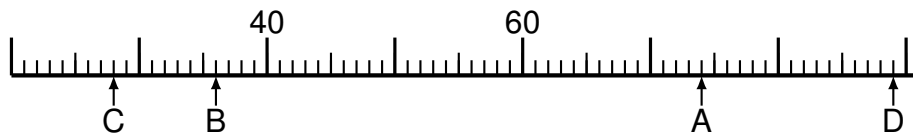


Aufgabe 4



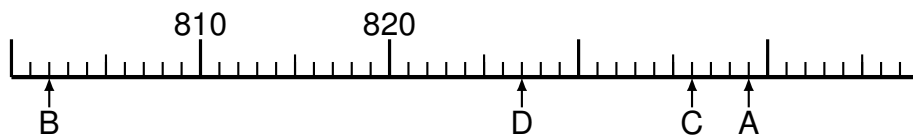
A = _____
B = _____
C = _____
D = _____

Aufgabe 5



A = _____
B = _____
C = _____
D = _____

Aufgabe 6



A = _____
B = _____
C = _____
D = _____



Lösung: Zahlenstrahl-Übungen, Blatt 8

Bereich: bis 1000

Musterlösung:

Aufgabe 1

$$\begin{array}{r} A = \quad 430 \\ \hline B = \quad 448 \\ \hline C = \quad 471 \\ \hline D = \quad 446 \\ \hline \end{array}$$

Aufgabe 4

$$\begin{array}{r} A = \quad 809 \\ \hline B = \quad 806 \\ \hline C = \quad 816 \\ \hline D = \quad 797 \\ \hline \end{array}$$

Aufgabe 2

$$\begin{array}{r} A = \quad 760 \\ \hline B = \quad 789 \\ \hline C = \quad 750 \\ \hline D = \quad 785 \\ \hline \end{array}$$

Aufgabe 5

$$\begin{array}{r} A = \quad 74 \\ \hline B = \quad 36 \\ \hline C = \quad 28 \\ \hline D = \quad 89 \\ \hline \end{array}$$

Aufgabe 3

$$\begin{array}{r} A = \quad 561 \\ \hline B = \quad 555 \\ \hline C = \quad 657 \\ \hline D = \quad 618 \\ \hline \end{array}$$

Aufgabe 6

$$\begin{array}{r} A = \quad 839 \\ \hline B = \quad 802 \\ \hline C = \quad 836 \\ \hline D = \quad 827 \\ \hline \end{array}$$