

Name \_\_\_\_\_ Datum \_\_\_\_\_ Klasse \_\_\_\_\_

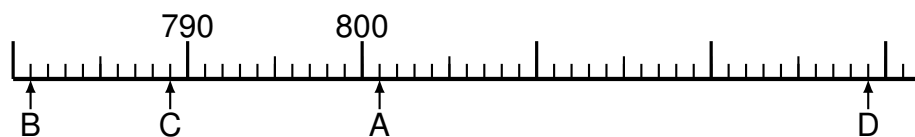
© <http://aufgaben.schulkreis.de>

# Zahlenstrahl-Übungen, Blatt 3

Bereich: bis 1000

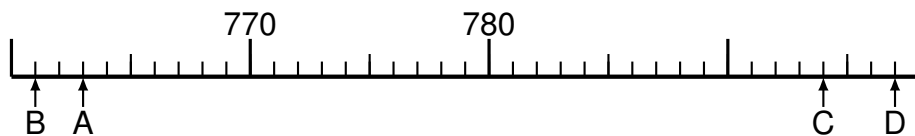
Bestimme jeweils die Werte A bis D.

## Aufgabe 1



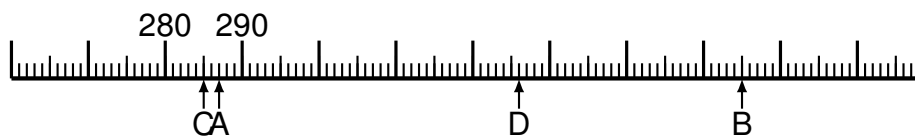
A = \_\_\_\_\_  
B = \_\_\_\_\_  
C = \_\_\_\_\_  
D = \_\_\_\_\_

## Aufgabe 2

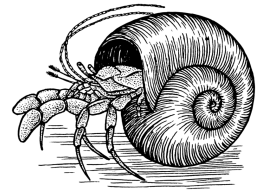


A = \_\_\_\_\_  
B = \_\_\_\_\_  
C = \_\_\_\_\_  
D = \_\_\_\_\_

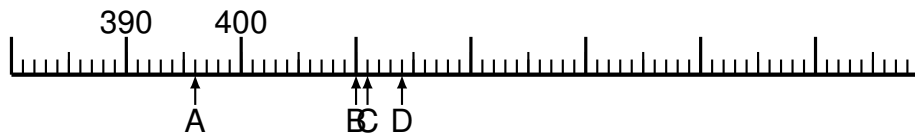
## Aufgabe 3



A = \_\_\_\_\_  
B = \_\_\_\_\_  
C = \_\_\_\_\_  
D = \_\_\_\_\_

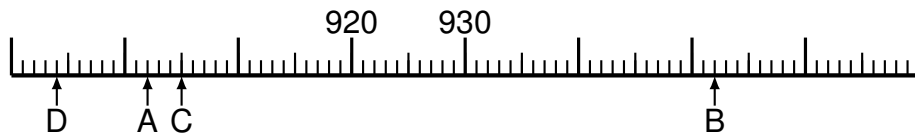


### Aufgabe 4



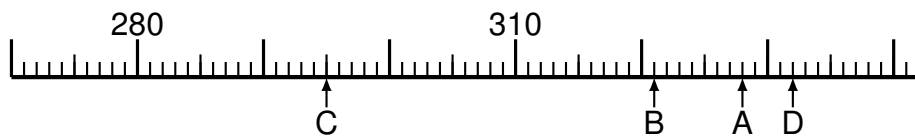
A = \_\_\_\_\_  
B = \_\_\_\_\_  
C = \_\_\_\_\_  
D = \_\_\_\_\_

### Aufgabe 5

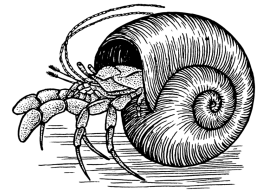


A = \_\_\_\_\_  
B = \_\_\_\_\_  
C = \_\_\_\_\_  
D = \_\_\_\_\_

### Aufgabe 6



A = \_\_\_\_\_  
B = \_\_\_\_\_  
C = \_\_\_\_\_  
D = \_\_\_\_\_



# Lösung: Zahlenstrahl-Übungen, Blatt 3

Bereich: bis 1000

Musterlösung:

Aufgabe 1

$$\begin{array}{r} A = \quad 801 \\ \hline B = \quad 781 \\ \hline C = \quad 789 \\ \hline D = \quad 829 \\ \hline \end{array}$$

Aufgabe 4

$$\begin{array}{r} A = \quad 396 \\ \hline B = \quad 410 \\ \hline C = \quad 411 \\ \hline D = \quad 414 \\ \hline \end{array}$$

Aufgabe 2

$$\begin{array}{r} A = \quad 763 \\ \hline B = \quad 761 \\ \hline C = \quad 794 \\ \hline D = \quad 797 \\ \hline \end{array}$$

Aufgabe 5

$$\begin{array}{r} A = \quad 902 \\ \hline B = \quad 952 \\ \hline C = \quad 905 \\ \hline D = \quad 894 \\ \hline \end{array}$$

Aufgabe 3

$$\begin{array}{r} A = \quad 287 \\ \hline B = \quad 355 \\ \hline C = \quad 285 \\ \hline D = \quad 326 \\ \hline \end{array}$$

Aufgabe 6

$$\begin{array}{r} A = \quad 328 \\ \hline B = \quad 321 \\ \hline C = \quad 295 \\ \hline D = \quad 332 \\ \hline \end{array}$$