

Name _____ Datum _____ Klasse _____

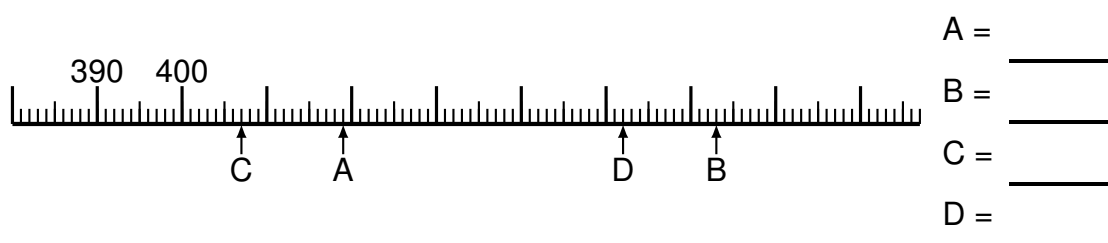
© <http://aufgaben.schulkreis.de>

Zahlenstrahl-Übungen, Blatt 2

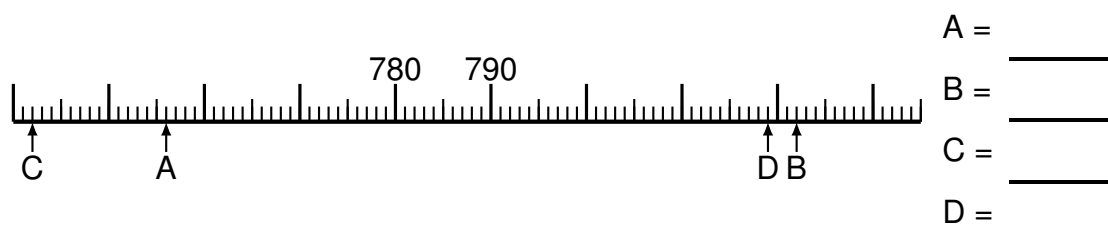
Bereich: bis 1000

Bestimme jeweils die Werte A bis D.

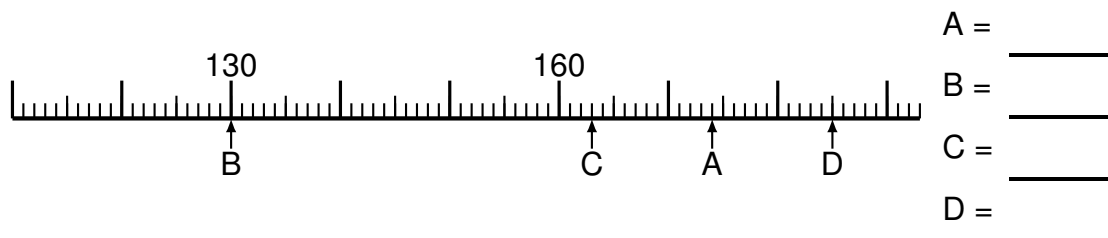
Aufgabe 1



Aufgabe 2

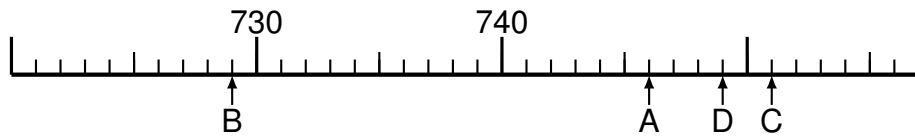


Aufgabe 3





Aufgabe 4



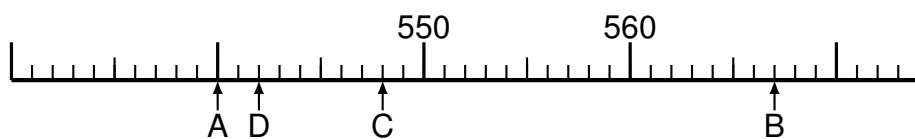
A = _____
B = _____
C = _____
D = _____

Aufgabe 5



A = _____
B = _____
C = _____
D = _____

Aufgabe 6



A = _____
B = _____
C = _____
D = _____



Lösung: Zahlenstrahl-Übungen, Blatt 2

Bereich: bis 1000

Musterlösung:

Aufgabe 1

$$\begin{array}{r} A = \quad 419 \\ \hline B = \quad 463 \\ \hline C = \quad 407 \\ \hline D = \quad 452 \\ \hline \end{array}$$

Aufgabe 4

$$\begin{array}{r} A = \quad 746 \\ \hline B = \quad 729 \\ \hline C = \quad 751 \\ \hline D = \quad 749 \\ \hline \end{array}$$

Aufgabe 2

$$\begin{array}{r} A = \quad 756 \\ \hline B = \quad 822 \\ \hline C = \quad 742 \\ \hline D = \quad 819 \\ \hline \end{array}$$

Aufgabe 5

$$\begin{array}{r} A = \quad 92 \\ \hline B = \quad 42 \\ \hline C = \quad 25 \\ \hline D = \quad 106 \\ \hline \end{array}$$

Aufgabe 3

$$\begin{array}{r} A = \quad 174 \\ \hline B = \quad 130 \\ \hline C = \quad 163 \\ \hline D = \quad 185 \\ \hline \end{array}$$

Aufgabe 6

$$\begin{array}{r} A = \quad 540 \\ \hline B = \quad 567 \\ \hline C = \quad 548 \\ \hline D = \quad 542 \\ \hline \end{array}$$