

Name _____ Datum _____ Klasse _____

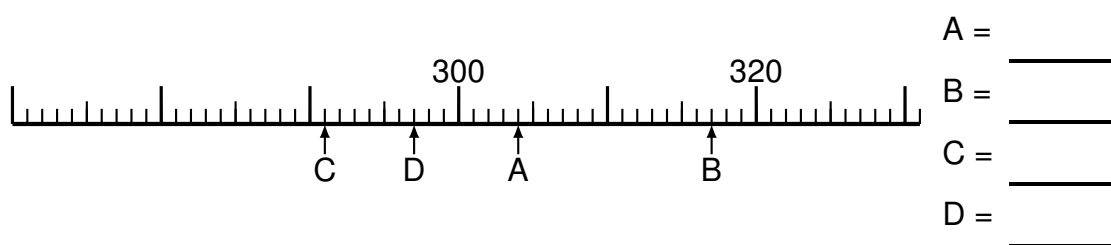
© <http://aufgaben.schulkreis.de>

Zahlenstrahl-Übungen, Blatt 1

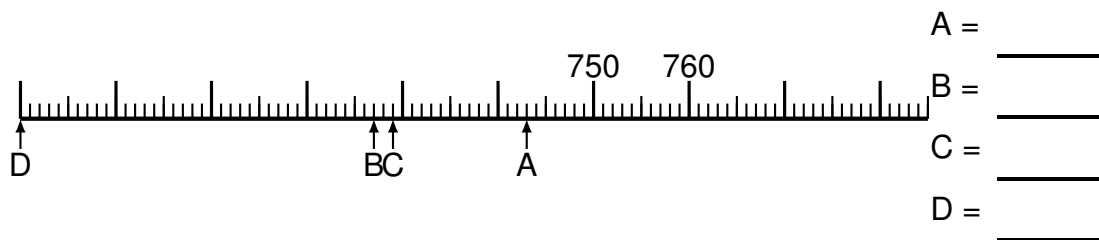
Bereich: bis 1000

Bestimme jeweils die Werte A bis D.

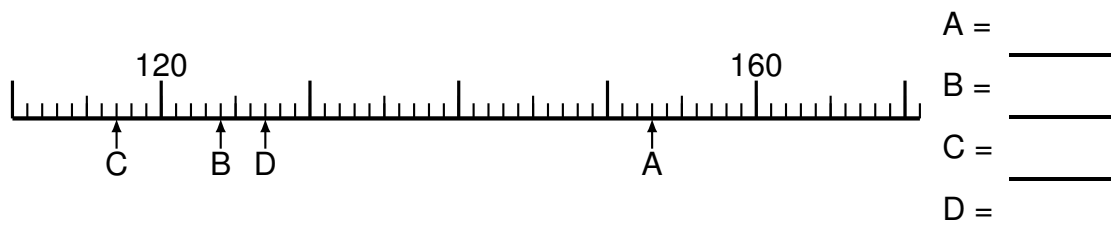
Aufgabe 1




Aufgabe 2



Aufgabe 3



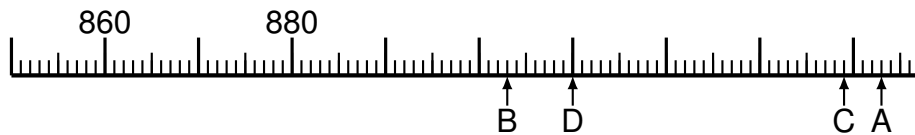


Aufgabe 4



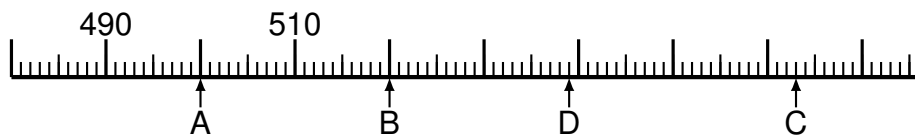
A = _____
B = _____
C = _____
D = _____

Aufgabe 5




A = _____
B = _____
C = _____
D = _____

Aufgabe 6



A = _____
B = _____
C = _____
D = _____



Lösung: Zahlenstrahl-Übungen, Blatt 1

Bereich: bis 1000

Musterlösung:

Aufgabe 1

$$\begin{array}{r} A = \quad 304 \\ \hline B = \quad 317 \\ \hline C = \quad 291 \\ \hline D = \quad 297 \\ \hline \end{array}$$

Aufgabe 4

$$\begin{array}{r} A = \quad 618 \\ \hline B = \quad 603 \\ \hline C = \quad 574 \\ \hline D = \quad 556 \\ \hline \end{array}$$

Aufgabe 2

$$\begin{array}{r} A = \quad 743 \\ \hline B = \quad 727 \\ \hline C = \quad 729 \\ \hline D = \quad 690 \\ \hline \end{array}$$

Aufgabe 5

$$\begin{array}{r} A = \quad 943 \\ \hline B = \quad 903 \\ \hline C = \quad 939 \\ \hline D = \quad 910 \\ \hline \end{array}$$

Aufgabe 3

$$\begin{array}{r} A = \quad 153 \\ \hline B = \quad 124 \\ \hline C = \quad 117 \\ \hline D = \quad 127 \\ \hline \end{array}$$

Aufgabe 6

$$\begin{array}{r} A = \quad 500 \\ \hline B = \quad 520 \\ \hline C = \quad 563 \\ \hline D = \quad 539 \\ \hline \end{array}$$