


Name \_\_\_\_\_ Datum \_\_\_\_\_ Klasse \_\_\_\_\_

© <http://aufgaben.schulkreis.de>

## Uhrzeit, Blatt 2


Genauigkeit: 1 Min.

Bestimme die Uhrzeiten.




8:08 Uhr

20:08 Uhr




\_\_\_\_\_

\_\_\_\_\_




\_\_\_\_\_

\_\_\_\_\_




\_\_\_\_\_

\_\_\_\_\_




\_\_\_\_\_

\_\_\_\_\_




\_\_\_\_\_

\_\_\_\_\_




\_\_\_\_\_

\_\_\_\_\_



\_\_\_\_\_

\_\_\_\_\_



\_\_\_\_\_

\_\_\_\_\_



# Lösung: Uhrzeit, Blatt 2

Genauigkeit: 1 Min.

Musterlösung:

8:08 Uhr / 20:08 Uhr

4:29 Uhr / 16:29 Uhr

8:00 Uhr / 20:00 Uhr

0:02 Uhr / 12:02 Uhr

0:41 Uhr / 12:41 Uhr

11:58 Uhr / 23:58 Uhr

7:06 Uhr / 19:06 Uhr

0:09 Uhr / 12:09 Uhr

1:39 Uhr / 13:39 Uhr