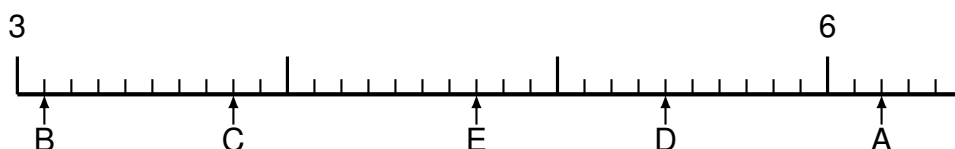


Übung 1093

Schwerpunkt: Dezimalzahlen am Zahlenstrahl

Bestimme jeweils die Werte A bis E als Dezimalzahlen.

Aufgabe 1



Lösung:

A = _____ B = _____ C = _____ D = _____ E = _____

Aufgabe 2



Lösung:

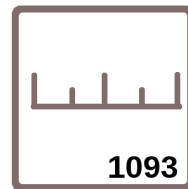
A = _____ B = _____ C = _____ D = _____ E = _____

Aufgabe 3

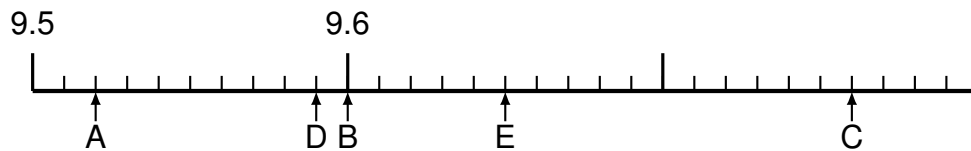


Lösung:

A = _____ B = _____ C = _____ D = _____ E = _____



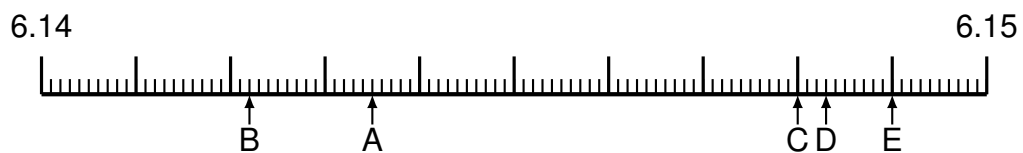
Aufgabe 4



Lösung:

A = _____ B = _____ C = _____ D = _____ E = _____

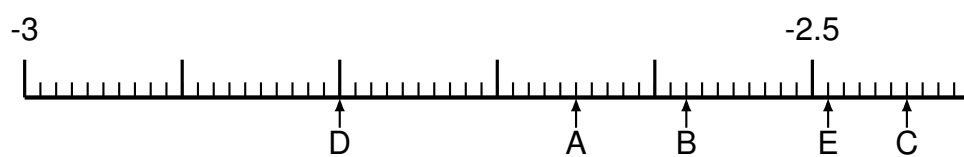
Aufgabe 5



Lösung:

A = _____ B = _____ C = _____ D = _____ E = _____

Aufgabe 6



Lösung:

A = _____ B = _____ C = _____ D = _____ E = _____