

Name \_\_\_\_\_ Datum \_\_\_\_\_ Klasse \_\_\_\_\_

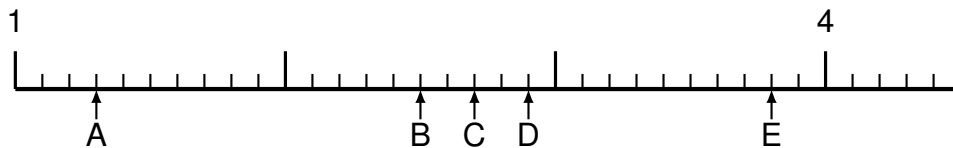
© <http://aufgaben.schulkreis.de>

# Übung 1090

## Schwerpunkt: Dezimalzahlen am Zahlenstrahl

Bestimme jeweils die Werte A bis E als Dezimalzahlen.

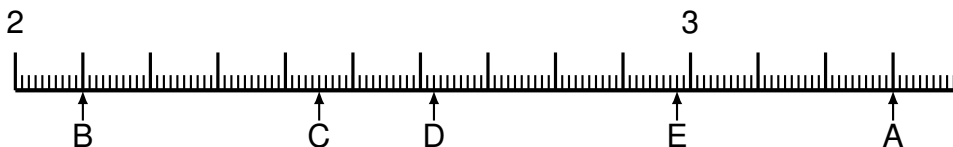
### Aufgabe 1



Lösung:

A = \_\_\_\_\_ B = \_\_\_\_\_ C = \_\_\_\_\_ D = \_\_\_\_\_ E = \_\_\_\_\_

### Aufgabe 2



Lösung:

A = \_\_\_\_\_ B = \_\_\_\_\_ C = \_\_\_\_\_ D = \_\_\_\_\_ E = \_\_\_\_\_

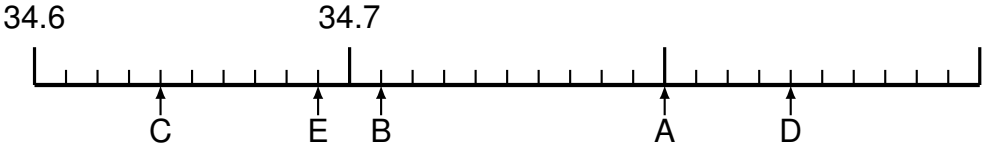
### Aufgabe 3



Lösung:

A = \_\_\_\_\_ B = \_\_\_\_\_ C = \_\_\_\_\_ D = \_\_\_\_\_ E = \_\_\_\_\_

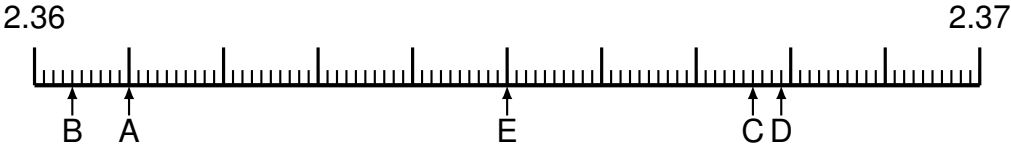
### Aufgabe 4



Lösung:

A = \_\_\_\_\_ B = \_\_\_\_\_ C = \_\_\_\_\_ D = \_\_\_\_\_ E = \_\_\_\_\_

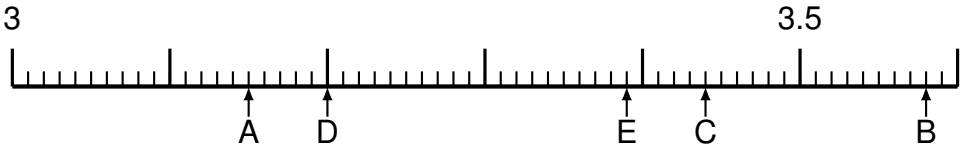
### Aufgabe 5



Lösung:

A = \_\_\_\_\_ B = \_\_\_\_\_ C = \_\_\_\_\_ D = \_\_\_\_\_ E = \_\_\_\_\_

### Aufgabe 6



Lösung:

A = \_\_\_\_\_ B = \_\_\_\_\_ C = \_\_\_\_\_ D = \_\_\_\_\_ E = \_\_\_\_\_