

Name _____ Datum _____ Klasse _____

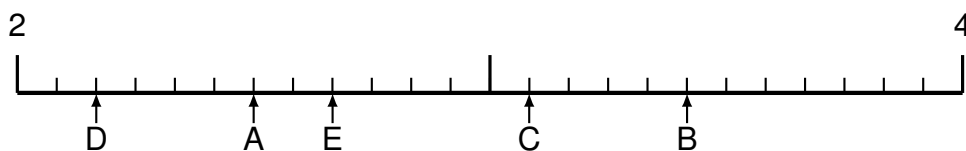
© <http://aufgaben.schulkreis.de>

Übung 1089

Schwerpunkt: Brüche/Dezimalzahlen am Zahlenstrahl

Bestimme bei den Aufgaben 1-3 jeweils die Werte A bis E als Bruch bzw. als gemischte Zahl.

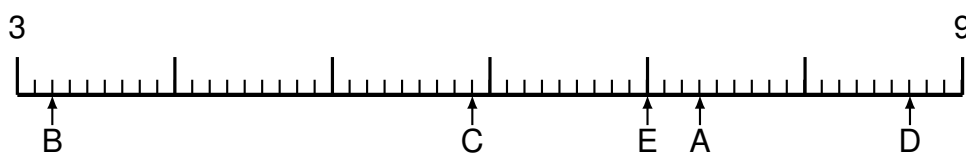
Aufgabe 1



Lösung:

A = _____ B = _____ C = _____ D = _____ E = _____

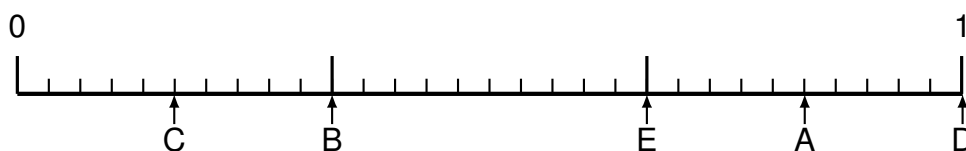
Aufgabe 2



Lösung:

A = _____ B = _____ C = _____ D = _____ E = _____

Aufgabe 3

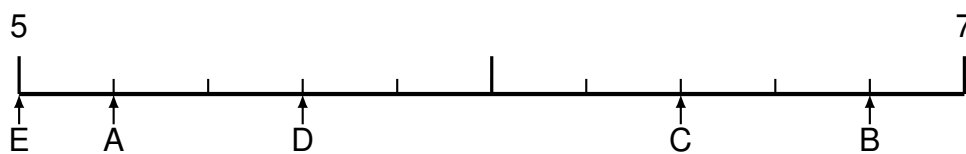


Lösung:

A = _____ B = _____ C = _____ D = _____ E = _____

Bestimme bei den Aufgaben 4-6 jeweils die Werte A bis E als Dezimalzahl.

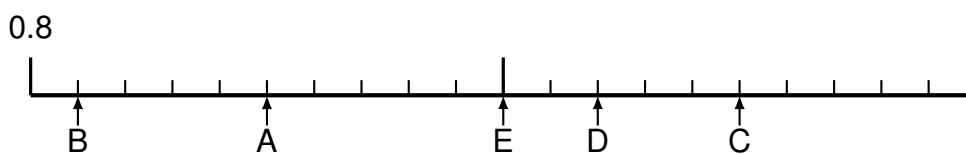
Aufgabe 4



Lösung:

A = _____ B = _____ C = _____ D = _____ E = _____

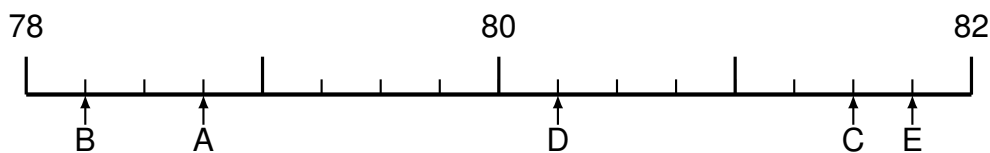
Aufgabe 5



Lösung:

A = _____ B = _____ C = _____ D = _____ E = _____

Aufgabe 6



Lösung:

A = _____ B = _____ C = _____ D = _____ E = _____