

Name _____ Datum _____ Klasse _____

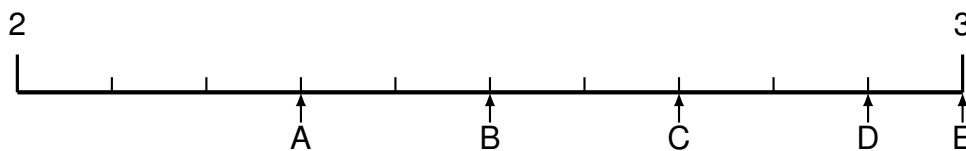
© <http://aufgaben.schulkreis.de>

Übung 1084

Schwerpunkt: Dezimalzahlen am Zahlenstrahl

Bestimme jeweils die Werte A bis E als Dezimalzahlen.

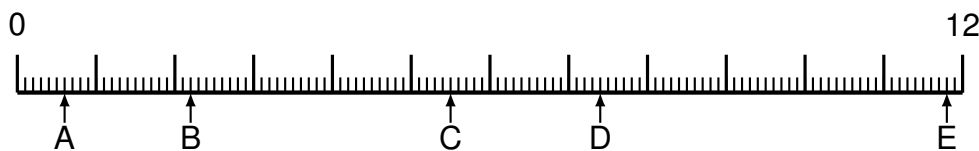
Aufgabe 1



Lösung:

A = _____ B = _____ C = _____ D = _____ E = _____

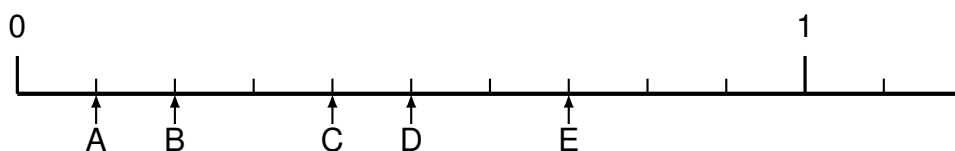
Aufgabe 2



Lösung:

A = _____ B = _____ C = _____ D = _____ E = _____

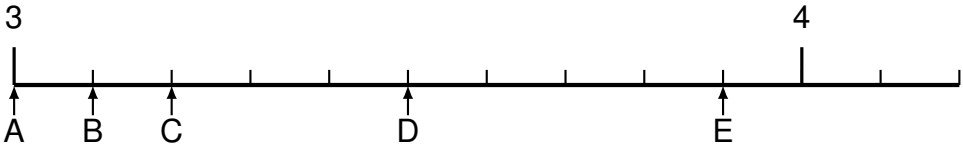
Aufgabe 3



Lösung:

A = _____ B = _____ C = _____ D = _____ E = _____

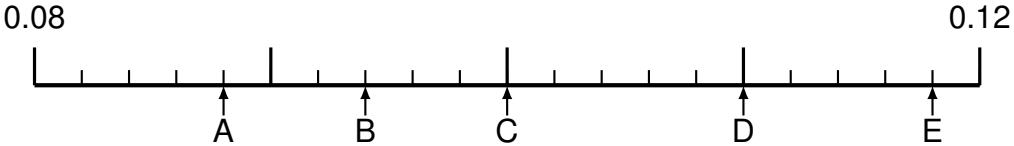
Aufgabe 4



Lösung:

A = _____ B = _____ C = _____ D = _____ E = _____

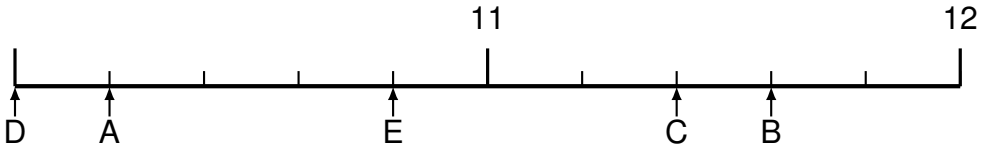
Aufgabe 5



Lösung:

A = _____ B = _____ C = _____ D = _____ E = _____

Aufgabe 6



Lösung:

A = _____ B = _____ C = _____ D = _____ E = _____