

Name _____ Datum _____ Klasse _____

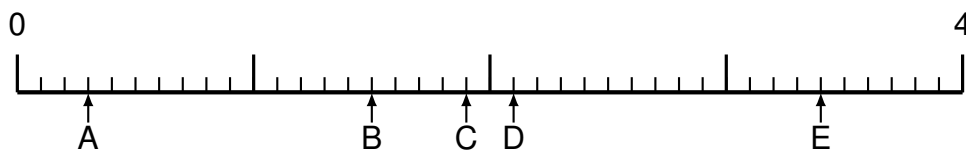
©<http://aufgaben.schulkreis.de>

Übung 1082

Schwerpunkt: Brüche am Zahlenstrahl

Bestimme die Werte A bis E als Bruchzahlen (gekürzt).

Aufgabe 1



Lösung:

A = _____ B = _____ C = _____ D = _____ E = _____

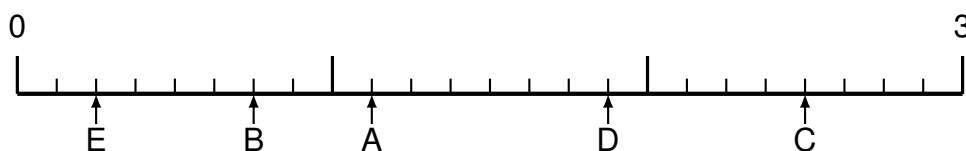
Aufgabe 2



Lösung:

A = _____ B = _____ C = _____ D = _____ E = _____

Aufgabe 3



Lösung:

A = _____ B = _____ C = _____ D = _____ E = _____

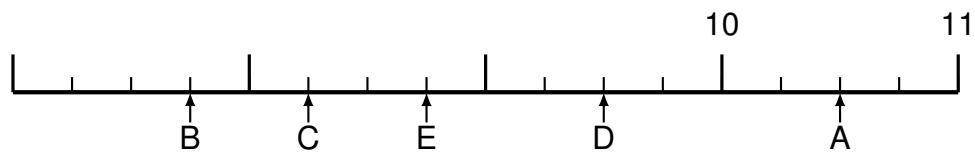
Aufgabe 4



Lösung:

A = _____ B = _____ C = _____ D = _____ E = _____

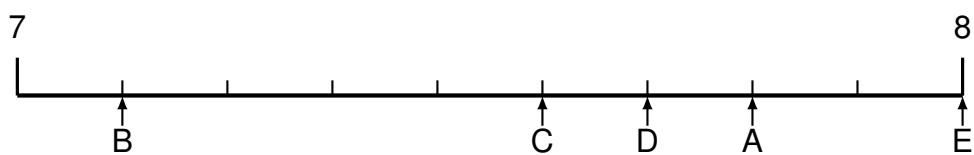
Aufgabe 5



Lösung:

A = _____ B = _____ C = _____ D = _____ E = _____

Aufgabe 6



Lösung:

A = _____ B = _____ C = _____ D = _____ E = _____