


Name _____ Datum _____ Klasse _____



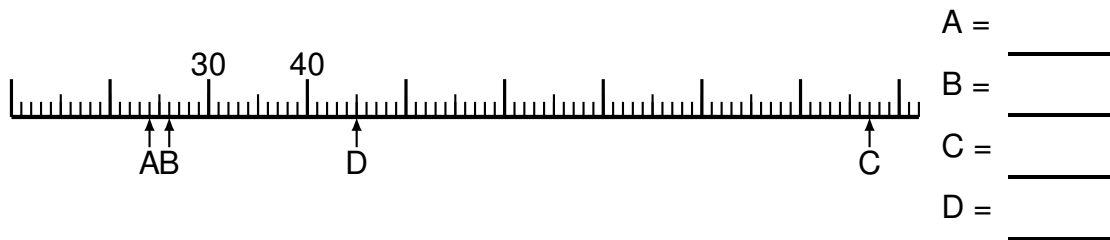
© <http://aufgaben.schulkreis.de>

Zahlenstrahl-Übungen, Blatt 4

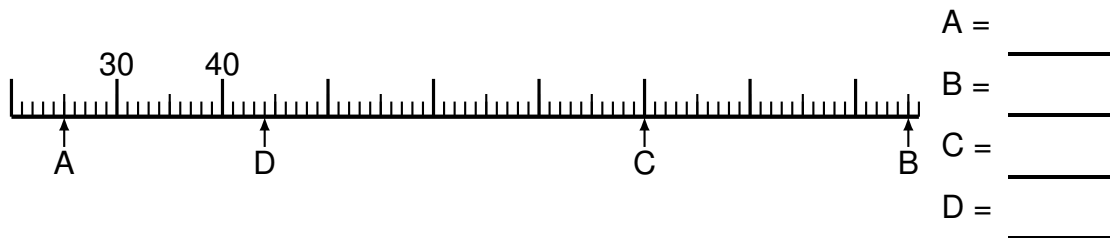
Bereich: bis 100

Bestimme jeweils die Werte A bis D.

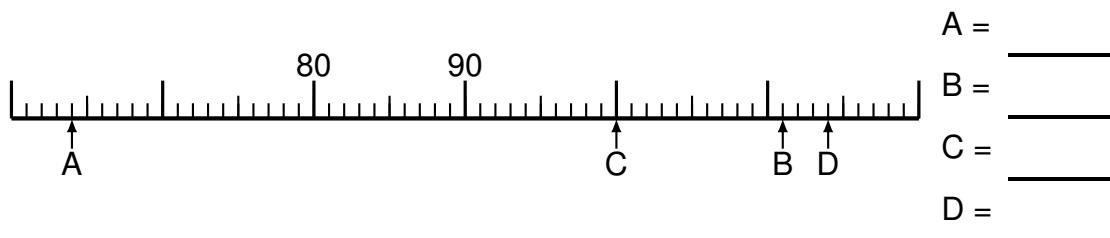
Aufgabe 1




Aufgabe 2



Aufgabe 3



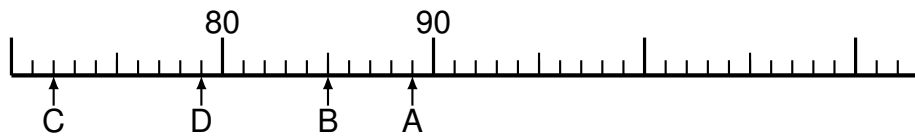


Aufgabe 4



A = _____
B = _____
C = _____
D = _____

Aufgabe 5




A = _____
B = _____
C = _____
D = _____

Aufgabe 6



A = _____
B = _____
C = _____
D = _____



Lösung: Zahlenstrahl-Übungen, Blatt 4

Bereich: bis 100

Musterlösung:

Aufgabe 1

$$\begin{array}{r} A = \quad 24 \\ \hline B = \quad 26 \\ \hline C = \quad 97 \\ \hline D = \quad 45 \\ \hline \end{array}$$

Aufgabe 4

$$\begin{array}{r} A = \quad 178 \\ \hline B = \quad 91 \\ \hline C = \quad 175 \\ \hline D = \quad 185 \\ \hline \end{array}$$

Aufgabe 2

$$\begin{array}{r} A = \quad 25 \\ \hline B = \quad 105 \\ \hline C = \quad 80 \\ \hline D = \quad 44 \\ \hline \end{array}$$

Aufgabe 5

$$\begin{array}{r} A = \quad 89 \\ \hline B = \quad 85 \\ \hline C = \quad 72 \\ \hline D = \quad 79 \\ \hline \end{array}$$

Aufgabe 3

$$\begin{array}{r} A = \quad 64 \\ \hline B = \quad 111 \\ \hline C = \quad 100 \\ \hline D = \quad 114 \\ \hline \end{array}$$

Aufgabe 6

$$\begin{array}{r} A = \quad 89 \\ \hline B = \quad 27 \\ \hline C = \quad 45 \\ \hline D = \quad 44 \\ \hline \end{array}$$