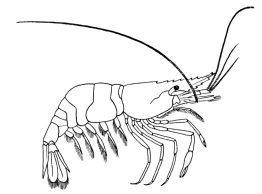


Name \_\_\_\_\_ Datum \_\_\_\_\_ Klasse \_\_\_\_\_



© <http://aufgaben.schulkreis.de>

# Zahlenstrahl-Übungen, Blatt 7

Bereich: bis 1000

Bestimme jeweils die Werte A bis D.

## Aufgabe 1



A = \_\_\_\_\_  
B = \_\_\_\_\_  
C = \_\_\_\_\_  
D = \_\_\_\_\_

## Aufgabe 2

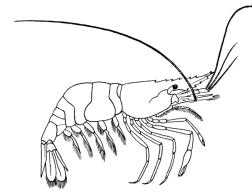


A = \_\_\_\_\_  
B = \_\_\_\_\_  
C = \_\_\_\_\_  
D = \_\_\_\_\_

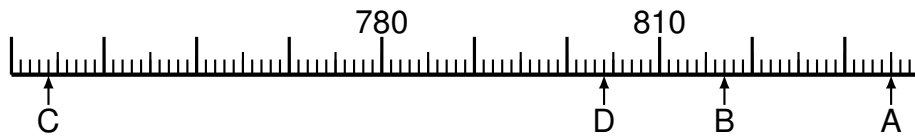
## Aufgabe 3



A = \_\_\_\_\_  
B = \_\_\_\_\_  
C = \_\_\_\_\_  
D = \_\_\_\_\_

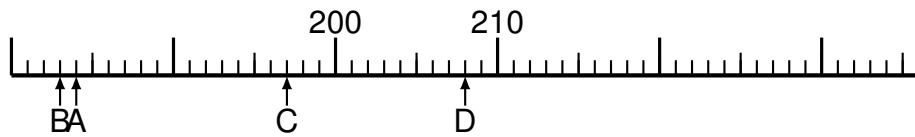


### Aufgabe 4



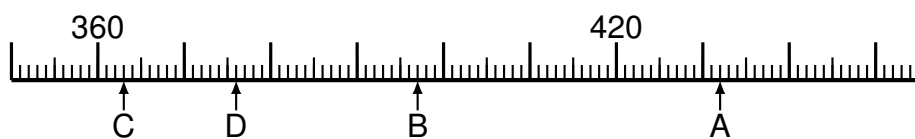
A = \_\_\_\_\_  
B = \_\_\_\_\_  
C = \_\_\_\_\_  
D = \_\_\_\_\_

### Aufgabe 5

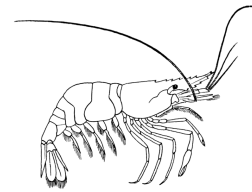


A = \_\_\_\_\_  
B = \_\_\_\_\_  
C = \_\_\_\_\_  
D = \_\_\_\_\_

### Aufgabe 6



A = \_\_\_\_\_  
B = \_\_\_\_\_  
C = \_\_\_\_\_  
D = \_\_\_\_\_



# Lösung: Zahlenstrahl-Übungen, Blatt 7

Bereich: bis 1000

Musterlösung:

Aufgabe 1

$$\begin{array}{r} A = \quad 12 \\ \hline B = \quad 30 \\ \hline C = \quad 22 \\ \hline D = \quad 53 \\ \hline \end{array}$$

Aufgabe 4

$$\begin{array}{r} A = \quad 835 \\ \hline B = \quad 817 \\ \hline C = \quad 744 \\ \hline D = \quad 804 \\ \hline \end{array}$$

Aufgabe 2

$$\begin{array}{r} A = \quad 288 \\ \hline B = \quad 272 \\ \hline C = \quad 264 \\ \hline D = \quad 269 \\ \hline \end{array}$$

Aufgabe 5

$$\begin{array}{r} A = \quad 184 \\ \hline B = \quad 183 \\ \hline C = \quad 197 \\ \hline D = \quad 208 \\ \hline \end{array}$$

Aufgabe 3

$$\begin{array}{r} A = \quad 1021 \\ \hline B = \quad 992 \\ \hline C = \quad 1026 \\ \hline D = \quad 1017 \\ \hline \end{array}$$

Aufgabe 6

$$\begin{array}{r} A = \quad 432 \\ \hline B = \quad 397 \\ \hline C = \quad 363 \\ \hline D = \quad 376 \\ \hline \end{array}$$