

Name \_\_\_\_\_ Datum \_\_\_\_\_ Klasse \_\_\_\_\_

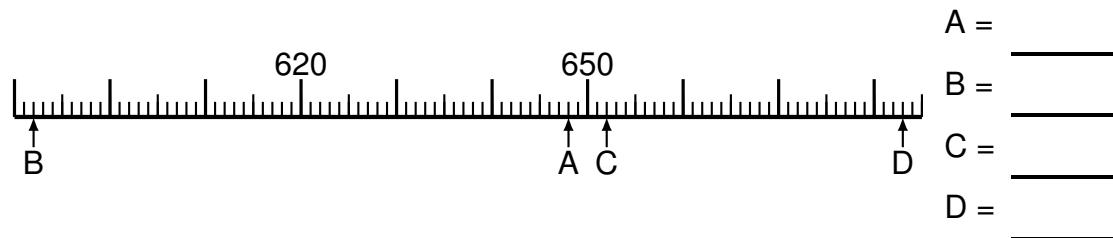
© <http://aufgaben.schulkreis.de>

# Zahlenstrahl-Übungen, Blatt 6

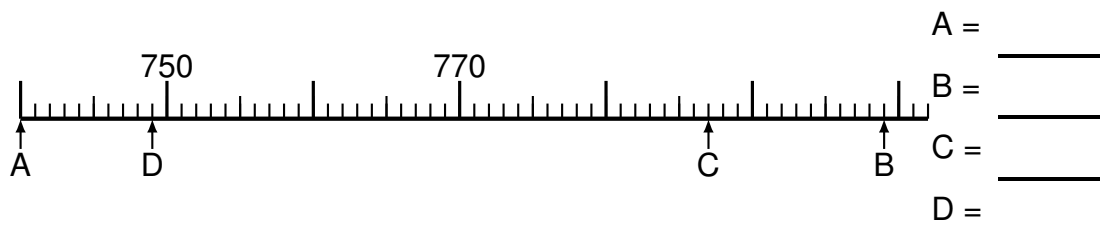
Bereich: bis 1000

Bestimme jeweils die Werte A bis D.

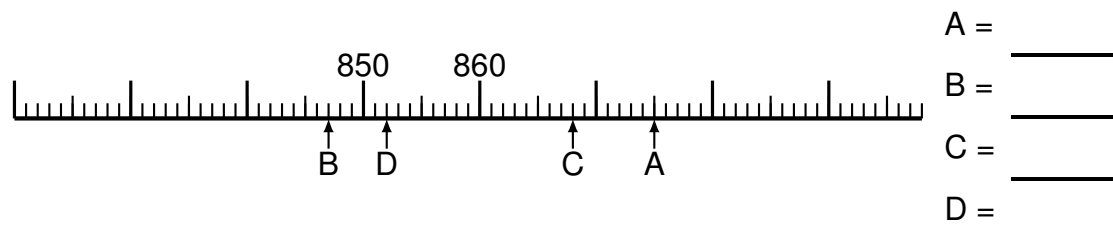
## Aufgabe 1




## Aufgabe 2



## Aufgabe 3

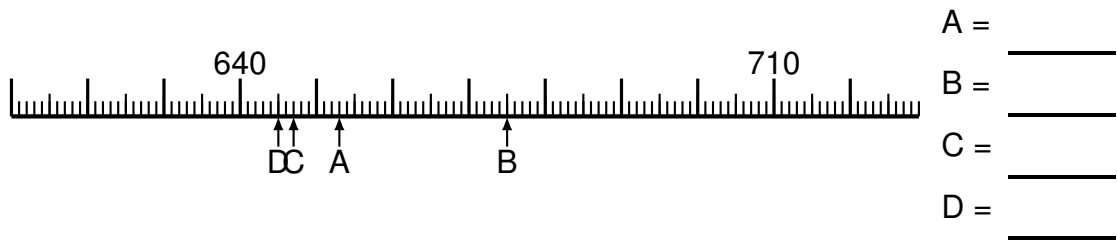




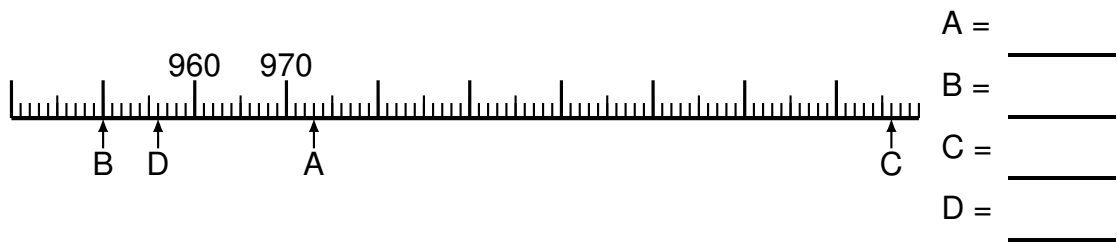
### Aufgabe 4




### Aufgabe 5



### Aufgabe 6





# Lösung: Zahlenstrahl-Übungen, Blatt 6

Bereich: bis 1000

Musterlösung:

Aufgabe 1

$$\begin{array}{r} A = \quad 648 \\ \hline B = \quad 592 \\ \hline C = \quad 652 \\ \hline D = \quad 683 \\ \hline \end{array}$$

Aufgabe 4

$$\begin{array}{r} A = \quad 952 \\ \hline B = \quad 1007 \\ \hline C = \quad 995 \\ \hline D = \quad 1006 \\ \hline \end{array}$$

Aufgabe 2

$$\begin{array}{r} A = \quad 740 \\ \hline B = \quad 799 \\ \hline C = \quad 787 \\ \hline D = \quad 749 \\ \hline \end{array}$$

Aufgabe 5

$$\begin{array}{r} A = \quad 653 \\ \hline B = \quad 675 \\ \hline C = \quad 647 \\ \hline D = \quad 645 \\ \hline \end{array}$$

Aufgabe 3

$$\begin{array}{r} A = \quad 875 \\ \hline B = \quad 847 \\ \hline C = \quad 868 \\ \hline D = \quad 852 \\ \hline \end{array}$$

Aufgabe 6

$$\begin{array}{r} A = \quad 973 \\ \hline B = \quad 950 \\ \hline C = \quad 1036 \\ \hline D = \quad 956 \\ \hline \end{array}$$